





## Tauschaufgaben


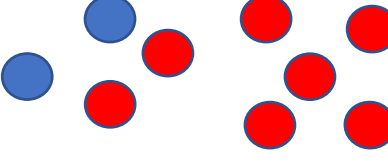
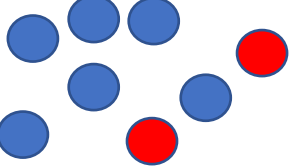
 $3 + 2 = 5$	 $4 + 3 = 7$
 $2 + 3 = 5$	 $3 + 4 = 7$

Diese Aufgaben heißen Tauschaufgaben.

Erkläre, was passiert.

### Aufgabe 1

Finde selbst die Tauschaufgaben.

		
$1 + 4 =$	$2 + 7 =$	$+ =$
$4 + 1 =$	$+ =$	$+ =$

### Aufgabe 2

Färbe die Tauschaufgaben in der gleichen Farbe.

$1 + 8 =$	$5 + 4 =$	$3 + 7 =$	$2 + 4 =$
$4 + 5 =$	$4 + 2 =$	$8 + 1 =$	$7 + 3 =$

### Aufgabe 3

Notiere die zugehörigen Tauschaufgaben.

$3 + 5 =$	$1 + 6 =$	$7 + 0 =$	$3 + 6 =$	$4 + 4 =$
$5 + =$	$+ =$	$+ =$		

